



ACADEMIA DE POLÍCIA
“DR. CORIOLANO NOGUEIRA COBRA”
Secretaria de Concursos Públicos



Concurso Público de Provas

001. PROVA PREAMBULAR

ATENDENTE DE NECROTÉRIO POLICIAL

- Você recebeu sua folha de respostas e este caderno contendo 100 questões objetivas.
- Confira seu nome e número de inscrição impressos na capa deste caderno e na folha de respostas.
- Quando for permitido abrir o caderno, verifique se está completo ou se apresenta imperfeições. Caso haja algum problema, informe ao fiscal da sala.
- Leia cuidadosamente todas as questões e escolha a resposta que você considera correta.
- Marque, na folha de respostas, com caneta esferográfica, fabricada em material transparente, de tinta azul, preferencialmente, ou preta, a letra correspondente à alternativa que você escolheu.
- A duração da prova é de 4 horas e 30 minutos, já incluído o tempo para o preenchimento da folha de respostas.
- Só será permitida a saída definitiva da sala e do prédio após transcorridas 3 horas e 30 minutos do início da prova.
- Deverão permanecer em cada uma das salas de prova os 3 últimos candidatos, até que o último deles entregue sua prova, assinando termo respectivo.
- Ao sair, você entregará ao fiscal a folha de respostas e este caderno, podendo levar apenas o rascunho de gabarito, localizado em sua carteira, para futura conferência.
- Até que você saia do prédio, todas as proibições e orientações continuam válidas.

AGUARDE A ORDEM DO FISCAL PARA ABRIR ESTE CADERNO DE QUESTÕES.

01. Leia a charge.



(Piracicaba – 30 anos de humor. São Paulo: Imprensa Oficial do Estado: Instituto do Memorial de Artes Gráficas do Brasil, 2003)

A fala do pai contém um tom

- (A) duvidoso.
- (B) elogioso.
- (C) otimista.
- (D) generoso.
- (E) pessimista.

02. Leia a tirinha.



(Bill Watterson. *Felino selvagem psicopata homicida*. São Paulo: Best News, 1996)

Assinale a alternativa que completa, correta e respectivamente, as lacunas do texto.

- (A) punha ... secará
- (B) pôr ... secava
- (C) puser ... secasse
- (D) poria ... secou
- (E) porá ... seca

Leia o texto para responder às questões de números 03 a 20.

Ortotanásia e eutanásia

O que é a vida, afinal? É simplesmente um conjunto de reações bioquímicas? Ou algo maior, sagrado e eterno? A nossa perplexidade diante desse tema tão polêmico, que é a eutanásia, advém das incertezas que cercam o sentido da existência humana.

Sou oncologista e imunologista. Faz 28 anos que busco mais vida com qualidade para os pacientes com câncer e portadores de Aids com câncer. Os pacientes que já na primeira consulta me dizem que querem morrer antes de tentar os tratamentos são exceções. Mas existem. Todos os pacientes, tanto os que querem enfrentar tratamentos antes de morrer como os que não querem, têm um elemento comum, que é a falta de esperança, a depressão e o medo do sofrimento. Independentemente das novas e eficientes técnicas de tratamento, há instantes em que se perde a batalha contra as doenças. É então que uma pergunta se faz necessária: até quando é lícito prolongar com medidas artificiais a manutenção da vida vegetativa? Existe grande confusão entre os diversos tipos de eutanásia – ou boa morte. Uma é a eutanásia ativa, na qual o médico ou alguém causa ativamente a morte do indivíduo. Ela é proibida por lei no Brasil, mas é prática regulamentada, em alguns outros países, como Holanda e Dinamarca.

Em um outro extremo, há a distanásia que, segundo o especialista em bioética padre Leo Pessini, “é um procedimento médico que prolonga inútil e sofridamente o processo de morrer procurando distanciar a morte”. Sou contra a distanásia. E como seria a verdadeira boa morte? Creio que é aquela denominada morte assistida que prefiro denominar de ortotanásia. É cuidar dos sintomas sem recorrer a medidas intervencionistas de suporte em quadros irreversíveis. É respeitar o descanso merecido do corpo, o momento da limpeza da caixa preta de mágoas e rancores; é a hora de dizer coisas boas, os agradecimentos que não fizemos antes. É a hora da despedida e da partida. Então, talvez possamos acreditar no escritor Jorge Luis Borges: “Morrer é como uma curva na estrada, é não ser visto”.

(Nise Hitomi Yamaguchi, doutora pela Faculdade de Medicina da USP. Folha de S. Paulo, Tendências/Debates, 26 de março de 2005. Adaptado)

03. Considerando as informações do texto, é correto afirmar que

- (A) depressão e medo do sofrimento atingem poucos doentes terminais.
- (B) uma grande parte dos pacientes da Dr.^a Nise não quer enfrentar os tratamentos.
- (C) os pacientes terminais, em sua totalidade, já na primeira consulta, desistem do tratamento.
- (D) poucos são os pacientes que desejam morrer antes de fazer os tratamentos.
- (E) a falta de esperança acomete pacientes mesmo com doenças que têm cura.

04. Assinale a alternativa que contém uma afirmação de acordo com o texto.

- (A) Eutanásia e ortotanásia são procedimentos idênticos.
- (B) Dr.^a Nise condena a distanásia, que torna mais distante o processo da morte.
- (C) Holanda e Dinamarca são países onde a eutanásia é proibida.
- (D) Padre Leo Pessini é a favor da distanásia porque ela apressa a morte.
- (E) No Brasil, é permitida a eutanásia.

05. De acordo com o texto, a distanásia consiste

- (A) no empenho dos médicos em abreviar a vida dos pacientes em estado terminal por meio de tratamentos alternativos.
- (B) em afastar, por meios médicos, pelo maior tempo possível, a morte de um doente terminal.
- (C) em deixar o doente terminal sem os procedimentos médicos, tentando, dessa forma, apressar a morte.
- (D) na tentativa obstinada de acabar com as dores nos últimos instantes de um doente com doença irreversível.
- (E) no método sofrido de atender à vontade que os doentes têm de morrer, pois já não têm esperanças de cura.

06. As informações textuais mostram que a perplexidade do homem, quando o assunto é a eutanásia, está relacionada

- (A) às dúvidas quanto ao sentido da vida.
- (B) à desconfiança nos médicos.
- (C) à inexistência de métodos que prolonguem a vida.
- (D) à falta de apoio por parte dos familiares do doente.
- (E) ao receio de complicações perante a lei.

07. Assinale a alternativa em que a preposição em destaque nas frases estabelece, entre as palavras, sentido de **oposição**.

- (A) Faz 28 anos que busco mais vida com qualidade **para** os pacientes com câncer... (2.º parágrafo)
- (B) Independentemente da diversidade de visões **sobre** a existência... (4.º parágrafo)
- (C) ... todos os pacientes têm um elemento comum: a falta **de** esperança, depressão... (3.º parágrafo)
- (D) ... há instantes em que se perde a batalha **contra** as doenças. (4.º parágrafo)
- (E) Faz 28 anos que busco mais vida **com** qualidade para os pacientes com câncer... (2.º parágrafo)

Considere o seguinte trecho do texto para responder às questões de números **08** e **09**.

A nossa perplexidade diante desse tema tão polêmico, que é a eutanásia, **advém** das incertezas que cercam o sentido da existência humana.

08. Considerando a concordância verbal, e mantendo o mesmo sentido do texto, assinale a alternativa que substitui corretamente a forma verbal **advém**.

- (A) utilizam-se.
- (B) precisa.
- (C) discordam.
- (D) necessitam.
- (E) procede.

09. Considerando-se o uso do pronome e a colocação pronominal, a expressão em destaque no trecho – ... que cercam **o sentido da existência humana**... (1.º parágrafo) – está corretamente substituída pelo pronome, de acordo com a norma-padrão da língua portuguesa, na alternativa:

- (A) ... que cercam-**lhe**...
- (B) ... que **lhe** cercam...
- (C) ... que **o** cercam...
- (D) ... que cercam-**no**...
- (E) ... que cercam-**lo**...

10. Considerando a regência verbal, assinale a alternativa que completa, de acordo com a norma-padrão da língua portuguesa, a lacuna do texto.

Os pacientes me dizem que preferem morrer _____ tentar os tratamentos.

- (A) a
- (B) ao que
- (C) à
- (D) à que
- (E) em

11. Releia o seguinte trecho do texto.

Independentemente da diversidade de visões sobre a existência e também das novas e eficientes técnicas de tratamento, há instantes em que se perde a batalha contra as doenças.

Mantendo-se o mesmo sentido do texto, é correta a substituição da expressão em destaque por:

- (A) Considerando-se a diversidade
- (B) Sem discriminar a diversidade
- (C) Relacionando-se a diversidade
- (D) Levando-se em consideração a diversidade
- (E) Sem levar em conta a diversidade

12. Reescrevendo-se algumas frases do texto, o emprego do acento indicativo da crase está correto na alternativa:
- (A) ... busco oferecer mais qualidade de vida à pacientes com câncer e portadores de Aids com câncer.
 - (B) É cuidar dos sintomas sem recorrer às medidas interencionistas de suporte em quadros irreversíveis.
 - (C) Um elemento comum à todos é a falta de esperança, depressão e medo do sofrimento.
 - (D) O padre Leo Passini definiu à distanásia como uma intervenção que não beneficia o doente em fase terminal.
 - (E) É respeitar à paz merecida do corpo, o momento...
13. Assinale a alternativa em que a expressão em destaque indica circunstância de tempo.
- (A) **Independentemente** da diversidade de visões sobre a existência...
 - (B) É **simplesmente** um conjunto de reações bioquímicas?
 - (C) Os pacientes me dizem que querem morrer **antes de** tentar os tratamentos...
 - (D) ... e que prolonga inútil e **sofridamente** o processo de morrer...
 - (E) ... causa ativamente a morte do indivíduo e que é proibida por lei **no Brasil**.
14. Releia o trecho: É respeitar o descanso merecido do corpo, o momento da **limpeza da caixa preta** de mágoas e rancores; ... (último parágrafo).
- A expressão “caixa preta” é uma referência a um dispositivo que há nos aviões, onde é registrado tudo o que acontece em uma viagem.
- No contexto em que foi empregada, a expressão em destaque – **limpeza da caixa preta** – significa
- (A) proporcionar ao corpo o repouso físico.
 - (B) limpar cuidadosamente o corpo.
 - (C) registrar na mente os dissabores da vida.
 - (D) libertar os sentimentos impuros guardados.
 - (E) guardar para si os desentendimentos.
15. Assinale a alternativa que preenche, correta e respectivamente, as lacunas da frase, de acordo com a norma-padrão da língua portuguesa.
- _____ situações _____ a batalha contra as doenças torna-se um fracasso.
- (A) Existem ... em que
 - (B) Existe ... em que
 - (C) Existe ... as quais
 - (D) Existem ... a qual
 - (E) Existem ... em cuja
16. Em – Ela é proibida por lei no Brasil, **mas** é prática regulamentada, em alguns outros países,... – a conjunção em destaque pode ser substituída, sem alteração de sentido do texto, por:
- (A) porque.
 - (B) isto é.
 - (C) porém.
 - (D) portanto.
 - (E) pois.
17. Assinale a alternativa cuja frase tem a pontuação correta, de acordo com a norma-padrão da língua portuguesa.
- (A) A Dr.^a Nise oncologista e imunologista, procura, há 28 anos, dar mais qualidade de vida aos seus pacientes.
 - (B) A Dr.^a Nise, oncologista e imunologista, procura, há 28 anos, dar mais qualidade de vida aos seus pacientes.
 - (C) A Dr.^a Nise, oncologista e imunologista procura, há 28 anos dar mais qualidade de vida, aos seus pacientes.
 - (D) A Dr.^a Nise oncologista e imunologista procura há 28 anos, dar mais qualidade de vida, aos seus pacientes.
 - (E) A Dr.^a Nise oncologista, e imunologista, procura, há 28 anos, dar mais qualidade de vida, aos seus pacientes.
18. No contexto em que ocorre, a palavra em destaque na frase – Ou algo maior, sagrado e **eterno**. (1.º parágrafo) – tem como antônimo (sentido contrário):
- (A) durável.
 - (B) definitivo.
 - (C) constante.
 - (D) duradouro.
 - (E) efêmero.
19. Assinale a alternativa em que a palavra em destaque na frase pertence à classe dos adjetivos (palavra que qualifica um substantivo).
- (A) ... o médico ou **alguém** causa ativamente a morte...
 - (B) Ela é proibida por **lei** no Brasil,...
 - (C) Existe grande **confusão** entre os diversos tipos de eutanásia...
 - (D) E como seria a **verdadeira** boa morte?
 - (E) prolonga o processo de morrer procurando distanciar a **morte**.

20. A frase com a forma verbal no tempo futuro, expressando uma hipótese, está na alternativa:

- (A) **Faz** 28 anos que busco mais vida com qualidade para os pacientes...
- (B) ... **prefiro** denominar de ortotanásia.
- (C) ... os agradecimentos que não **fizemos** antes.
- (D) E como **seria** a verdadeira boa morte?
- (E) Morrer é como uma curva na estrada...

Leia o poema de Mario Quintana para responder às questões de números 21 e 22.

Quando eu for...

Mario Quintana

Quando eu for, um dia desses,
Poeira ou folha levada
No vento da madrugada,
Serei um pouco do nada
Invisível, delicioso
Que faz com que o teu ar
Pareça mais um olhar,
Suave mistério amoroso,
Cidade de meu andar (Deste já tão longo andar!)
E talvez de meu repouso...

21. No poema, alguém

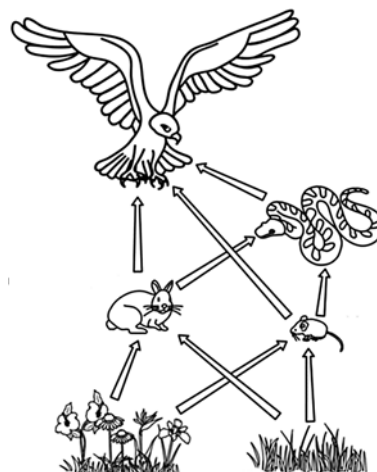
- (A) relembra momentos do seu passado.
- (B) sente saudade de sua cidade natal.
- (C) faz elogios à madrugada.
- (D) se diverte com as folhas ao vento.
- (E) imagina uma situação futura.

22. Na frase – Pareça mais um **olhar** (7.º verso) –, a palavra em destaque é um substantivo, como na frase:

- (A) Esse teu **olhar**, quando encontra o meu, fala de tantas coisas...
- (B) Ela se pôs a **olhar** carinhosamente para o amado.
- (C) O jovem nem se dignou **olhar** para trás.
- (D) Quando você **olhar** para mim serei a pessoa mais feliz do mundo.
- (E) Quero **olhar** bem em seus olhos e dizer tudo o que sinto.

NOÇÕES DE BIOLOGIA

23. Analise a teia alimentar.

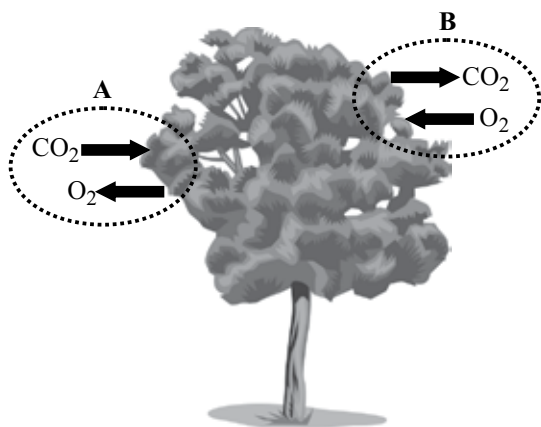


(<http://zyndteldesigngraphics.blogspot.com.br>. Adaptado)

Em relação aos níveis tróficos ocupados pelos seres vivos contidos na teia, é correto afirmar que

- (A) as plantas ocupam a posição de consumidores primários.
 - (B) o pássaro ocupa o nível de consumidor secundário ou terciário.
 - (C) existem três animais que ocupam a posição de consumidores terciários.
 - (D) a cobra e o pássaro ocupam a posição de consumidores quaternários.
 - (E) o rato e o coelho são consumidores secundários.
24. O núcleo é considerado uma das principais estruturas de uma célula eucariótica. Nele estão contidos os cromossomos, que são formados por
- (A) RNA cujo papel é realizar a respiração celular.
 - (B) açúcares cujo papel é impedir a entrada de substâncias.
 - (C) DNA cujo papel é controlar as atividades celulares.
 - (D) lipídios cujo papel é realizar a transmissão genética.
 - (E) vitaminas cujo papel é regular a hereditariedade.

25. A figura ilustra possíveis trocas gasosas que caracterizam dois fenômenos biológicos (A e B) que ocorrem nos vegetais em ambientes naturais.



Considerando os dois fenômenos biológicos, é correto afirmar que

- (A) A ocorre apenas durante o dia.
 - (B) B ocorre apenas durante a noite.
 - (C) ambos ocorrem durante o dia e durante a noite.
 - (D) A ocorre durante o dia e durante a noite.
 - (E) B depende da luz para ocorrer.
26. A epidemia de dengue em Campinas (SP) chegou a 5016 casos e outras seis mortes são investigadas, segundo balanço divulgado pela Prefeitura nesta segunda-feira (14.04.2014). Desses, 173 são considerados graves e os pacientes inspiram mais cuidados.

(<http://g1.globo.com/sp/campinas-regiao/noticia>. Adaptado)

A doença citada no texto é causada por um tipo de

- (A) protozoário e é transmitida pela picada do barbeiro *Anopheles*.
- (B) vírus e é transmitida pela picada do mosquito *Aedes aegypti*.
- (C) protozoário e é transmitida pela picada do mosquito *Anopheles*.
- (D) bactéria e é transmitida pela picada do mosquito *Aedes aegypti*.
- (E) vírus e é transmitida pela picada do barbeiro *Triatoma*.

27. A falta de higiene pessoal também pode facilitar o contágio e a permanência de certos fungos. É importante lavar bem as mãos e os pés, com água e sabonete, especialmente entre os dedos, as virilhas e as axilas. Quando uma pessoa transpira muito e permanece com sapatos fechados por muitas horas do dia, é aconselhável o uso de talco medicinal nos pés e entre os dedos.

(*Ciências Entendendo a natureza*, 7.º ano, César, Sezar e Bedaque. Adaptado)

O texto refere-se a uma doença conhecida como

- (A) herpes.
 - (B) rubéola.
 - (C) bicho-geográfico.
 - (D) micose.
 - (E) leishmaniose.
28. A planária pertence ao filo dos platelmintos, e a lombriga pertence ao filo dos nematódeos, antigamente classificados como asquelmintos. Analisando a anatomia desses animais, é correto afirmar que a planária e a lombriga
- (A) possuem boca e ânus.
 - (B) são achatados.
 - (C) possuem sistema circulatório.
 - (D) são cilíndricos.
 - (E) possuem simetria bilateral.

29. Baleias, cachalotes, orcas, golfinhos e botos são os principais exemplos de mamíferos aquáticos. Embora estejam nesse ambiente, possuem muitas semelhanças com os mamíferos terrestres. Dentre essas semelhanças, é correto citar:

- (A) moela e osso esterno em quilha.
- (B) respiração pulmonar e glândulas mamárias.
- (C) nadadeiras e respiração cutânea.
- (D) respiração branquial e placenta.
- (E) respiração branquial e glândulas mamárias.


30. Considere a sequência que indica os níveis de organização biológica:

molécula → organela → **X** → tecido → órgão → **Y** → organismo.

Os níveis de organização indicados por **X** e **Y** são, respectivamente,

- (A) átomo e população.
- (B) comunidade e célula.
- (C) célula e sistema.
- (D) sistema e átomo.
- (E) população e comunidade.

31. A figura representa um tipo de plano de divisão do corpo humano.



O plano de divisão é o

- (A) frontal.
- (B) dorsal.
- (C) ventral.
- (D) sagital.
- (E) transverso.

32. A pele é formada pela epiderme e derme. A epiderme é a região mais externa da pele e é formada por células achatadas, sendo que as mais superficiais, quando morrem, formam camadas de queratina, que atuam

- (A) na reserva de energia.
- (B) na captação de sensações de pressão.
- (C) reduzindo a desidratação.
- (D) como barreira elétrica.
- (E) como lubrificante.

33. Escoliose, lordose e cifose são alguns tipos de problemas que podem ocorrer

- (A) na coluna vertebral.
- (B) na pele.
- (C) no intestino delgado.
- (D) nas articulações dos braços.
- (E) no coração.

34. A respeito da circulação humana, é correto afirmar que

- (A) o sangue que sai do ventrículo direito segue diretamente para a artéria aorta.
- (B) o sangue contido nas veias cavas desemboca diretamente no ventrículo esquerdo.
- (C) as contrações e relaxamentos do coração são originados por suas valvas internas.
- (D) no interior das veias circula apenas sangue venoso, e nas artérias, apenas sangue arterial.
- (E) nas câmaras cardíacas localizadas no lado esquerdo circula apenas sangue arterial.

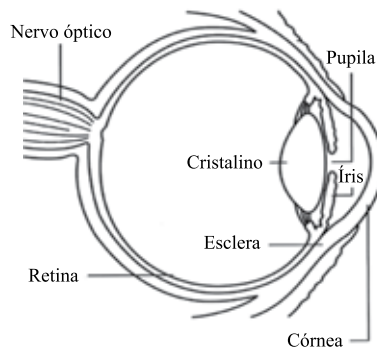
35. A ureia, um tipo de excreta nitrogenada, é produzida e lançada no sangue e passa por uma sequência de órgãos até sair do corpo humano. A sequência de órgãos do sistema urinário pelos quais a ureia deve passar é:

- (A) bexiga → ureter → rim → uretra.
- (B) rim → ureter → bexiga → uretra.
- (C) bexiga → ureter → uretra → rim.
- (D) uretra → bexiga → rim → ureter.
- (E) rim → uretra → ureter → bexiga.

36. São exemplos de doenças passíveis de vacinação:

- (A) aids e catapora.
- (B) doença de Chagas e amarelão.
- (C) malária e conjuntivite.
- (D) dengue e teníase.
- (E) febre amarela e gripe.

37. A figura representa, de forma simplificada, o olho humano.



(www.netce.com/coursecontent.php?courseid=788. Adaptado)

A respeito da fisiologia da visão, é correto afirmar que

- (A) a imagem de um objeto se forma invertida na pupila.
- (B) a íris é sensível à luz mais intensa e ela permite a visão de cores.
- (C) a córnea capta imagens e as transmite ao nervo óptico.
- (D) alterações na forma do cristalino levam à acomodação visual.
- (E) a retina controla a intensidade luminosa que entra no olho.

38. O corpo humano é coordenado pelos diversos hormônios secretados por glândulas endócrinas. Uma delas é a suprarrenal, que produz e secreta a adrenalina. Esse hormônio pode provocar no corpo

- (A) aumento no estado de sonolência.
- (B) dilatação dos vasos sanguíneos da pele.
- (C) aumento no ritmo cardíaco.
- (D) redução na frequência dos movimentos respiratórios.
- (E) redução da concentração de glicose no sangue.

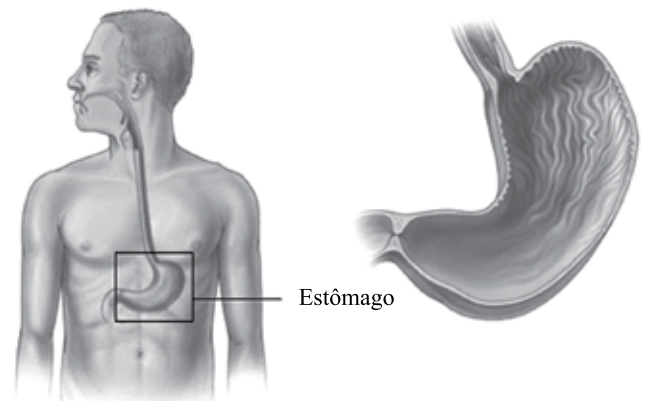
39. O sistema genital feminino é formado pelos seguintes componentes:

- (A) epidídimo, útero, ovários e próstata.
- (B) ovários, canais deferentes, vagina e epidídimo.
- (C) vesícula seminal, vagina, ovários e útero.
- (D) ovários, tubas uterinas, útero e vagina.
- (E) epidídimo, útero, tubas uterinas e próstata.

40. Os movimentos respiratórios de inspiração e expiração são controlados por uma região do sistema nervoso chamada

- (A) bulbo.
- (B) córtex cerebral.
- (C) hipotálamo.
- (D) substância branca.
- (E) cerebelo.

41. A figura representa um importante órgão que atua na digestão humana.



(http://www.webmd.com)

A respeito do órgão destacado, é correto afirmar que ele

- (A) forma as fezes.
- (B) produz e secreta um ácido.
- (C) absorve todos os nutrientes.
- (D) possui microvilosidades.
- (E) digere principalmente o amido.

42. Assinale a alternativa que apresenta, correta e respectivamente, uma forma considerada segura, que permite evitar doenças sexualmente transmissíveis, e duas dessas doenças.

- (A) Laqueadura; herpes e HPV.
- (B) Camisinha; sífilis e aids.
- (C) DIU; hepatite e gonorreia.
- (D) Diafragma; gonorreia e HPV.
- (E) Vasectomia; cancro mole e hepatite B.

NOÇÕES DE DIREITO

43. Prevê a Constituição Federal de 1988 que é privativo de brasileiro nato o cargo de
- (A) Deputado Federal.
 - (B) Senador Federal.
 - (C) Governador do Estado.
 - (D) Ministro da Justiça.
 - (E) Presidente da República.
44. Os cargos, empregos e funções públicas são acessíveis
- (A) exclusivamente mediante investidura em comissão.
 - (B) mediante concurso público, que valerá pelo prazo de 5 (cinco) anos.
 - (C) aos brasileiros que preencham os requisitos estabelecidos em lei, assim como aos estrangeiros, na forma da lei.
 - (D) exclusivamente mediante investidura efetiva.
 - (E) a pessoas com deficiência, sem reserva de percentual de cargos.
45. Prevê o artigo 144 da Constituição Federal que a segurança pública, dever do Estado, direito e responsabilidade de todos, é exercida para
- (A) reprimir o tráfico ilícito de entorpecentes e drogas afins.
 - (B) prevenir o contrabando e o descaminho.
 - (C) a preservação da ordem pública e da incolumidade das pessoas e do patrimônio.
 - (D) servir de força auxiliar e reserva do Exército.
 - (E) a obtenção da pacificação dos conflitos sociais.
46. Estado Democrático de Direito é um sistema institucional
- (A) em que votam somente as pessoas que possuem nível superior.
 - (B) em que é necessário que as leis sejam em forma de código.
 - (C) que independe do respeito à dignidade da pessoa humana.
 - (D) em que o poder político não possui limites previstos em lei.
 - (E) em que há previsão e proteção aos direitos fundamentais.
47. Assinale a alternativa correta com relação ao conceito de direitos humanos.
- (A) Direitos humanos são aqueles que estão previstos de forma expressa em uma Constituição e que se referem somente a direitos das pessoas que respondem a um inquérito ou a um processo penal.
 - (B) Considerando o que prevê a Constituição de 1988, os direitos humanos se dão por meio da propriedade, que se impõe como um valor incondicional e insubstituível, que não admite equivalente.
 - (C) No âmbito da filosofia, a expressão direitos humanos significa a independência do ser humano, tratando exclusivamente do direito de liberdade.
 - (D) Direitos humanos é uma forma sintética de se referir a direitos fundamentais da pessoa humana, aqueles que são essenciais à pessoa humana, que precisa ser respeitada pela dignidade que lhe é inerente.
 - (E) Como os direitos humanos são inerentes à natureza humana, somente derivam do espírito humano e não devem ser positivados nas leis.
48. Abalados pela barbárie recente e com o intuito de construir um mundo sob novos alicerces ideológicos, os dirigentes das nações que emergiram como potências no período pós-guerra, lideradas por URSS e Estados Unidos, estabeleceram, em 1945, as bases de uma futura paz, definindo áreas de influência das potências e acertaram a criação de uma organização multilateral que promovesse negociações sobre conflitos internacionais, para evitar guerras, promover a paz e a democracia, e fortalecer os direitos humanos. A fim de que houvesse esse fortalecimento dos direitos humanos, foi elaborado documento em 1948, pela Organização das Nações Unidas, denominado:
- (A) Declaração do Bom Povo da Virgínia.
 - (B) Declaração dos Direitos do Homem e do Cidadão.
 - (C) Magna Carta.
 - (D) Declaração Universal dos Direitos Humanos.
 - (E) Encíclica *Rerum Novarum*.
49. O estatuto de pertencimento de um indivíduo a uma comunidade politicamente articulada, como um país, que lhe atribui um conjunto de direitos e obrigações, sob vigência de uma constituição é uma forma de conceituar
- (A) cidadania.
 - (B) direitos humanos.
 - (C) direitos políticos.
 - (D) liberdades positivas.
 - (E) participação política.

50. As contravenções penais se diferenciam dos crimes, pois aquelas não
- (A) geram reincidência (LCP, art. 7.º).
 - (B) são punidas na forma tentada (LCP, art. 4.º).
 - (C) geram antecedentes criminais (LCP, art. 7.º).
 - (D) admitem pena de prisão, apenas multa (LCP, art. 9.º).
 - (E) são processadas por ação penal de iniciativa pública (LCP, art. 17).
51. Aquele que antes de praticar o fato até hipotetiza que ele pode ocorrer, mas acredita, sinceramente, que o resultado não se verificará e, portanto, não admite previamente a possibilidade de o resultado advir, comete crime
- (A) intencional.
 - (B) tentado.
 - (C) culposo.
 - (D) premeditado.
 - (E) doloso.
52. Dispõe o parágrafo único do art. 14 do CP que o crime tentado é punido, salvo exceção, com a pena
- (A) livremente estabelecida pelo Juiz, mas em patamar obrigatoriamente inferior à correspondente à prevista para o crime consumado.
 - (B) correspondente à prevista para o crime consumado, diminuída de um a dois terços.
 - (C) igual à do crime consumado.
 - (D) correspondente à prevista para o crime consumado, diminuída de um ano.
 - (E) correspondente à metade da prevista para o crime consumado.
53. De acordo com o art. 23 do CP, não comete crime, por exclusão da ilicitude, aquele que pratica fato típico em
- (A) situação de extrema emoção.
 - (B) situação de extrema paixão.
 - (C) idade inferior a 18 (dezoito) anos.
 - (D) circunstância de completa embriaguez, causada por força maior.
 - (E) estado de necessidade, para salvaguardar direito alheio.
54. Assinale a alternativa que traz as duas hipóteses de aborto legal, praticado por médico, expressamente previstas no art. 128 do CP.
- (A) Se o feto sofre de doença incurável, sendo praticado com o consentimento da gestante; se praticado com o consentimento da gestante, tendo sido a gravidez resultada de estupro.
 - (B) Se o feto sofre de doença incurável, sendo praticado com o consentimento da gestante; se há má-formação fetal que inviabilize a vida extrauterina.
 - (C) Se a gestante é menor de idade, sendo o procedimento autorizado pelos responsáveis; se praticado com o consentimento da gestante, tendo sido a gravidez resultada de estupro.
 - (D) Se não há outro meio de salvar a vida da gestante; se praticado com o consentimento dela, tendo sido a gravidez resultada de estupro.
 - (E) Se há má-formação fetal que inviabilize a vida extrauterina; se não há outro meio de salvar a vida da gestante.
55. No que concerne ao crime de lesão corporal culposa,
- (A) o juiz poderá deixar de aplicar a pena, se as consequências da infração atingirem o próprio agente de forma tão grave que a sanção penal se torne desnecessária.
 - (B) se o agente comete o crime sob o domínio de violenta emoção, logo em seguida à injusta provocação da vítima, o juiz pode reduzir a pena de um sexto (1/6) a um terço (1/3).
 - (C) se o agente comete o crime impelido por motivo de relevante valor social ou moral, o juiz pode reduzir a pena de um sexto (1/6) a um terço (1/3).
 - (D) aumenta-se a pena de 1/4 (um quarto) se o crime resulta de inobservância de regra técnica de profissão, arte ou ofício.
 - (E) aumenta-se a pena de 1/4 (um quarto) se o agente deixa de prestar imediato socorro à vítima ou não procura diminuir as consequências do seu ato.
56. O ato de vilipendiar cadáver
- (A) é contravenção contra a polícia de costumes, punida com prisão simples e multa.
 - (B) não caracteriza figura delitiva autônoma, mas apenas é qualificadora do crime de violação de sepultura.
 - (C) não caracteriza crime ou contravenção.
 - (D) não caracteriza figura delitiva autônoma, mas apenas é qualificadora do crime de impedimento ou perturbação de cerimônia funerária.
 - (E) é crime contra o respeito aos mortos, punido com pena de detenção.

57. Funcionário público, responsável por receber cadáveres no Instituto Médico Legal, que se apropria de relógio que estava no pulso de pessoa falecida encaminhada à necropsia comete
- (A) prevaricação.
 - (B) concussão.
 - (C) peculato.
 - (D) corrupção passiva.
 - (E) corrupção ativa.
58. Funcionário público que estende intencional e desautorizadamente o período de tempo reservado para seu almoço, a fim de durante esse “período de folga” dedicar-se a atividades pessoais não urgentes, deixando de praticar, indevidamente, uma série de atos de ofício, comete
- (A) corrupção ativa.
 - (B) prevaricação.
 - (C) corrupção passiva.
 - (D) concussão.
 - (E) peculato.
59. Conforme prevê a Lei Federal n.º 9.434/97, a disposição de tecidos, órgãos e partes do corpo humano
- (A) poderá ocorrer em vida ou *post mortem*.
 - (B) independe da realização de testes de diagnóstico de infecção e infestação no doador.
 - (C) será realizada somente por hospitais privados.
 - (D) poderá ser gratuita ou mediante pagamento.
 - (E) será realizada somente por unidades públicas do Sistema Único de Saúde.
60. Nos termos da Lei Orgânica da Polícia Civil do Estado de São Paulo, ao policial civil é vedado
- (A) cumprir as normas legais e regulamentares.
 - (B) portar a carteira funcional.
 - (C) zelar pela economia e conservação dos bens do Estado.
 - (D) faltar, chegar atrasado ou abandonar escala de serviço ou plantões.
 - (E) ser assíduo e pontual.
61. Conforme dispõe a Lei Federal n.º 12.037/09, embora apresentado documento de identificação, poderá ocorrer identificação criminal quando
- (A) o documento apresentar rasura ou tiver indício de falsificação.
 - (B) a autoridade policial julgar conveniente.
 - (C) a critério do responsável pela apresentação de preso.
 - (D) o investigado comparecer ao distrito policial portando somente a carteira de trabalho.
 - (E) assim determinar o representante do Ministério Público.
62. Cidadão apresenta pedido de acesso a informações públicas à Secretaria da Segurança Pública. O acesso solicitado é negado pelo responsável pelo Serviço de Informações ao Cidadão – SIC, da Pasta. Inconformado, o cidadão apresenta recurso ao Secretário da Segurança Pública, que também indefere o pedido. Nos termos do Decreto Estadual n.º 58.052/12, o cidadão poderá apresentar novo recurso
- (A) ao Governador.
 - (B) à Corregedoria-Geral do Estado.
 - (C) à Procuradoria-Geral do Estado.
 - (D) ao Arquivo Público do Estado.
 - (E) ao Ministério Público.

NOÇÕES DE CRIMINOLOGIA

63. Para a aproximação e verificação de seu objeto de estudo, a Criminologia dos dias atuais vale-se de um conceito
- (A) dedutivo e dogmático.
 - (B) empírico e lógico-abstrato.
 - (C) dogmático e lógico-abstrato.
 - (D) dedutivo e interdisciplinar.
 - (E) empírico e interdisciplinar.
64. A abulomania é um dos fatores desencadeantes do comportamento delituoso de natureza
- (A) biológica.
 - (B) religiosa.
 - (C) psicológica.
 - (D) sociológica.
 - (E) filosófica.

65. A sobrevivitização, ou revitização, também é conhecida na doutrina por vitimização
- (A) terciária.
 - (B) quaternária.
 - (C) primária.
 - (D) secundária.
 - (E) quinquenária.
66. A prevenção terciária consiste em
- (A) programas destinados a criar os pressupostos aptos a neutralizar e inibir as causas da criminalidade.
 - (B) atuação, por meio de punição exemplar do delinquente em público, como meio de intimidação aos demais criminosos.
 - (C) atuação, por meio de ações policiais, sobre os grupos que apresentam maior risco de sofrer ou de praticar delitos.
 - (D) programas destinados a crianças e adolescentes de resistência ao consumo de drogas e à violência doméstica.
 - (E) programas destinados a prevenir a reincidência, tendo por público-alvo o preso e o egresso do sistema prisional.
67. Sobre o objeto de estudo da Criminologia dos dias atuais, assinale a alternativa correta.
- (A) A Criminologia ocupa-se do estudo do crime, caracterizando-o como simples fato típico e antijurídico, da mesma forma que o Direito Penal.
 - (B) A Criminologia tem por objeto de estudo o delinquente, o delito, a vítima e o controle social.
 - (C) O estudo de desvios de conduta que atentam contra a moral e os bons costumes não é assunto da Criminologia, por não configurarem crime, na acepção jurídica da palavra.
 - (D) O ramo da Criminologia que estuda a vítima é denominado Frenologia Criminal.
 - (E) A Escatologia Criminal estuda os atos pecaminosos praticados por quem escolhe a vereda do mal.
68. A respeito dos fatores condicionantes e desencadeantes da criminalidade, é correto afirmar que
- (A) de acordo com as estatísticas, a mulher comete menos crimes que o homem.
 - (B) não há qualquer constatação de aumento na prática de crimes em períodos de guerras ou revoluções.
 - (C) a desagregação familiar vivida por uma criança ou adolescente necessariamente o conduzirá a uma carreira criminosa na vida adulta.
 - (D) a baixa produtividade escolar, o analfabetismo e o precoce abandono escolar são características raramente observadas nos criminosos de classes sociais baixas.
 - (E) apenas os jovens pobres cometem crimes, o que não é o caso dos jovens de classes sociais mais abastadas.
69. Assinale a alternativa que contém os nomes dos precursores da vitimologia do século XX.
- (A) Émile Durkheim e Cesare Lombroso.
 - (B) Michel Foucault e John Locke.
 - (C) Hans von Hentig e Benjamin Mendelsohn.
 - (D) Cesare Bonesana e Raffaele Garofalo.
 - (E) Francesco Carrara e Enrico Ferri.
70. O modelo restaurador de reação ao delito, também conhecido por modelo integrador ou de justiça restaurativa, tem por objetivo(s)
- (A) reinserir o condenado à sociedade por meio da religião e da laborterapia.
 - (B) proteger os bens jurídicos violados pela prática delitiva.
 - (C) aplicar pena ao condenado, buscando desestimulá-lo à prática de novos delitos.
 - (D) buscar a recuperação do delinquente, proporcionar assistência à vítima e restabelecer o controle social abalado pela prática do delito.
 - (E) punir o delinquente, como meio de castigá-lo e retribuir-lhe o mal pelo delito praticado.
71. São fins básicos da Criminologia, dentre outros,
- (A) a vingança e o castigo públicos do criminoso.
 - (B) o diagnóstico e a profilaxia das enfermidades mentais, mediante tratamento ambulatorial e internação hospitalar.
 - (C) a prevenção e o controle do fenômeno criminal.
 - (D) o processo e o julgamento judicial do criminoso.
 - (E) os valores do ressarcimento e da indenização da vítima pelos danos sofridos.
72. Entende-se por _____ um grupo polimorfo de indivíduos que existe à margem da sociedade, em situação de _____, sem aptidão para o trabalho, por razões de ordem biológicas ou pela exclusão social.
- Assinale a alternativa que preenche, correta e respectivamente, as lacunas do trecho.
- (A) mal-vivência ... parasitismo
 - (B) parasitismo ... espírito de rebeldia
 - (C) mal-vivência ... pleno emprego
 - (D) mimetismo ... pleno emprego
 - (E) mimetismo ... espírito de rebeldia

73. Do ponto de vista vitimológico, vítima falsa é aquela que

- (A) deixa de comunicar o crime sofrido às autoridades competentes.
- (B) detém predisposição permanente e inconsciente para se tornar vítima.
- (C) tolera a lesão sofrida pelo temor de perseguição por seu algoz.
- (D) consente com a prática do delito.
- (E) se autovitimiza com o fim de obter benefícios para si.

74. Assinale a alternativa que contém o ente que exerce ou fomenta os controles sociais informais sobre a vida dos indivíduos.

- (A) Ministério Público.
- (B) Sistema Penitenciário.
- (C) Poder Judiciário.
- (D) Escola.
- (E) Polícia.

75. Entende-se por cifras negras

- (A) os crimes hediondos praticados com violência ou grave ameaça.
- (B) as ocorrências criminais não registradas nos órgãos policiais responsáveis, em prejuízo do interesse da sociedade.
- (C) apenas os crimes praticados por policiais, que não são apurados, por temor de represália.
- (D) somente os delitos praticados pelos criminosos de colarinho branco, em prejuízo da coletividade.
- (E) os crimes de menor potencial ofensivo praticados sem violência ou grave ameaça.

76. As teorias absolutas da pena também são conhecidas por teorias da

- (A) prevenção.
- (B) ressocialização.
- (C) restauração.
- (D) reeducação.
- (E) retribuição.

77. Lalá, Lelé e Lili, apenas elas, participam de um grupo A. Lili, Lola, Lulu e Lilo participam de um grupo B, com apenas 4 elementos. Certo dia, um grupo C foi montado com apenas Lalá e Lelé para realizar uma tarefa. Pode-se afirmar corretamente que esse grupo C corresponde ao conjunto

- (A) reunião de A e B.
- (B) diferença entre A e B.
- (C) interseção de A e B.
- (D) complementar de A em relação a B.
- (E) das partes de A.

78. Uma tarefa diária é realizada em duas fases: na 1.^a fase, executam-se as atividades I, II e III e, na 2.^a fase, as atividades IV, V e VI. Marcelo, Sérgio e Raquel são os únicos responsáveis pela realização dessa tarefa, e a cada um deles é delegada apenas uma atividade em cada fase da tarefa. Sabe-se que Marcelo executa a atividade VI, mas não a atividade III. Sabe-se, ainda, que quem executa a atividade IV não é homem e quem executa a atividade I também executa a atividade V. As atividades que são executadas por Marcelo, Sérgio e Raquel são, respectivamente,

- (A) III e IV; I e V; II e VI.
- (B) I e V; II e VI; III e IV.
- (C) II e VI; III e IV; I e V.
- (D) II e VI; I e V; III e IV.
- (E) III e VI; I e V; II e IV.

79. Um concurso é composto por três fases, todas elas eliminatórias. Sabe-se que 850 candidatos foram aprovados na 1.^a e na 2.^a fases e fizeram a 3.^a fase desse concurso, que 3 500 candidatos aprovados na 1.^a fase fizeram a 2.^a fase, e que 9 850 candidatos foram eliminados na 1.^a fase. Dessa forma, o número total de candidatos que fizeram o concurso foi

- (A) 13 750.
- (B) 14 250.
- (C) 13 350.
- (D) 14 500.
- (E) 12 900.

80. Economizar água é necessário. Sabe-se que apenas 2 torneiras deixadas pingando da mesma forma esvaziam uma caixa-d'água de 1 000 litros em, aproximadamente, dez dias e meio. Sendo assim, 3 torneiras, pingando dessa mesma forma, e apenas elas, esvaziam a mesma caixa-d'água em um número de dias aproximadamente igual a
- (A) 10.
(B) 8.
(C) 7.
(D) 11.
(E) 9.
81. Certo grupo de atendentes executa uma determinada tarefa T trabalhando, ininterruptamente, durante 1,5 hora. Dessa forma, é esperada a execução de um sexto dessa tarefa T, por esse mesmo grupo de atendentes, em, no máximo, uma fração de hora correspondente a um
- (A) quarto.
(B) quinto.
(C) sexto.
(D) nono.
(E) décimo.
82. A respeito de 5 amigos com alturas distintas, sabe-se que Carlos é mais alto que Márcia e mais baixo que Ana. Sabe-se também que Ana é mais alta que Débora, que não é mais baixa que Carlos. Se Otávio não é mais alto que Márcia, então é verdade que a segunda e a quarta maiores alturas são, respectivamente, as de
- (A) Ana e Márcia.
(B) Ana e Débora.
(C) Carlos e Otávio.
(D) Débora e Carlos.
(E) Débora e Márcia.
83. Conforme dados contidos no Anuário Brasileiro de Segurança Pública de 2013, 57,4% do total de mortes causadas por agressão, em 2011, no Estado de São Paulo, ocorreram mediante uso de arma de fogo. Com base nessa informação, é possível afirmar corretamente que, se k fosse o número de mortes causadas por agressão, no referido Estado, em 2011, então é verdade que a diferença entre esse número k e o número de mortes que ocorreram mediante o uso de arma de fogo, nessa ordem, poderia ser representada por
- (A) $\frac{213}{500}k$
(B) $\frac{213}{250}k$
(C) $\frac{213}{100}k$
(D) $\frac{125}{426}k$
(E) $\frac{175}{574}k$
84. Considere a seguinte informação, adaptada, noticiada na página eletrônica da Secretaria de Segurança Pública do Estado de São Paulo:
- Em 2013, São Paulo teve a segunda menor taxa de homicídios dolosos desde 2001, quando teve início a atual série histórica. Em relação ao ano de 2012, o indicador de criminalidade caiu, aproximadamente, 8% [...], com 4 439 casos.*
- (<http://www.ssp.sp.gov.br/acoef>. Adaptado)
- Com base nessa informação, é possível afirmar corretamente que o número aproximado de casos de homicídios dolosos ocorridos no Estado de São Paulo, no ano de 2012, foi
- (A) 4 915.
(B) 4 945.
(C) 4 825.
(D) 4 865.
(E) 4 795.
85. No Anuário 2010 do Departamento de Investigações sobre o Crime Organizado do Estado de São Paulo, constam, dentre outras, informações sobre o número de atendimentos a ocorrências do serviço aerotático (helicópteros), no referido ano. Com base nas informações contidas nesse documento, conclui-se corretamente que a razão entre o número de atendimentos relacionados a Reconhecimento ou Transporte Aéreo e o número de atendimentos relacionados aos demais tipos de ocorrências daquele serviço é $\frac{26}{153}$. Se naquele ano o serviço aerotático atendeu a 358 ocorrências, então é verdade que o número de atendimentos relacionados a Reconhecimento ou Transporte Aéreo foi
- (A) 51.
(B) 52.
(C) 50.
(D) 53.
(E) 49.
86. No ano de 2008, a Secretaria Nacional de Segurança Pública divulgou o Relatório Descritivo com o Perfil dos Institutos de Medicina Legal (IML) brasileiros. Nesse relatório, consta que, em 2006, as quantidades de IMLs nos Estados do Espírito Santo, de Minas Gerais, do Rio de Janeiro e de São Paulo eram, respectivamente, 2, 20, 9 e 64. Supondo-se que uma verba federal de R\$ 190 milhões fosse destinada aos IMLs desses Estados, e a divisão dessa verba fosse feita de forma diretamente proporcional a essas quantidades de IMLs por estado, o Estado de São Paulo receberia o valor, em milhões, de
- (A) R\$ 47,5.
(B) R\$ 98.
(C) R\$ 156.
(D) R\$ 128.
(E) R\$ 165,5.

NOÇÕES DE INFORMÁTICA

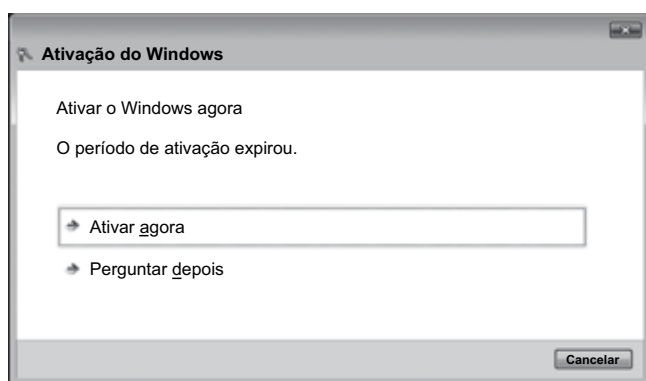
87. Observe as imagens a seguir, retiradas do MS-Windows 7, em sua configuração padrão.



Assinale a alternativa que contém o número associado ao ícone relacionado à mensagem exibida na imagem.

- (A) 2
(B) 3
(C) 1
(D) 4
(E) 5
88. Dentre os vários aplicativos acessórios do MS-Windows 7, em sua configuração padrão, alguns estão em pastas específicas. Assinale a alternativa que contém um *software* aplicativo da pasta Acessibilidade.
- (A) Paint.
(B) Bloco de Notas.
(C) Teclado Virtual.
(D) Notas Autoadesivas.
(E) Prompt de Comando.


89. Observe a imagem a seguir, retirada do MS-Windows 7, em sua configuração padrão.



Assinale a alternativa correta, em relação à imagem exibida.

- (A) Um usuário administrador precisa ativar o Firewall do Windows.
(B) A ativação do antivírus do Windows precisa ser atualizada.
(C) Nenhuma conta de usuário foi criada.
(D) É preciso ativar o Painel de Controle.
(E) É preciso inserir uma chave de registro do Windows.

- Considere a figura a seguir, retirada do MS-Word 2010, em sua configuração padrão, para responder às questões de números 90 e 91.




90. Assinale a alternativa que contém o nome do primeiro ícone, da esquerda para a direita, exibido na figura.

- (A) Marca d'água.
(B) Efeitos de texto.
(C) Margens.
(D) Alinhamento.
(E) Caixa de texto.

91. O nome da guia a que pertence o grupo exibido na figura é

- (A) Exibição.
(B) Revisão.
(C) Página Inicial.
(D) Layout da Página.
(E) Inserir.

92. Observe os ícones a seguir.



Um usuário deseja adicionar uma legenda a uma imagem em um documento que está sendo editado por meio do MS-Word 2010, em sua configuração padrão.

O número associado ao ícone utilizado pelo usuário para inserir a legenda desejada é

- (A) 3
(B) 4
(C) 1
(D) 5
(E) 2

93. O nome do recurso do MS-Word 2010, em sua configuração padrão, que permite que um usuário possa copiar a formatação de um local e aplicá-la a outro local de um documento é

- (A) Pincel de Formatação.
- (B) Temas.
- (C) Formatação Equivalente.
- (D) Caixa de texto.
- (E) Copiar e Colar.

Observe a planilha a seguir, que está sendo editada no MS-Excel 2010, em sua configuração padrão, e responda às questões de números 94 e 95.

	A	B	C	D	E
1	1	4	5	4	
2	1	3	6	8	
3	1	2	3	7	
4					

94. Assinale a alternativa que contém o resultado da célula A4, ao ser preenchida com a fórmula:

=MAIOR(A1:D3;3) – MENOR(A2:D3;3)

- (A) 5
- (B) 4
- (C) 6
- (D) 3
- (E) 7

95. A fórmula correta a ser preenchida na célula E3, formatada com uma casa decimal, para que o resultado exibido seja igual a 8,0 é:

- (A) =MÉDIA(A2:C3)
- (B) =SOMA(A3:C3;B3)
- (C) =C2+B2
- (D) =MÉDIA(A3:C3)
- (E) =SOMA(A2;C1)

96. Assinale a alternativa que contém o nome da categoria de funções a que pertence a função MÉDIA.

- (A) Financeira.
- (B) Matemática.
- (C) Lógica.
- (D) Estatística.
- (E) Engenharia.

Em relação aos conhecimentos relacionados a correio eletrônico, observe a imagem a seguir e responda às questões de números 97 e 98.

Para... arquivo_zip@gmail.com

Cc...

Cco... contato@gmail.com

Assunto: Atendente de necrotério

email.zip (22 B)

Para seu conhecimento...!

97. Na imagem, “email.zip” corresponde

- (A) a um usuário no serviço de *e-mail* gmail.com.
- (B) a um arquivo anexo.
- (C) ao corpo do *e-mail*.
- (D) ao assunto do *e-mail*.
- (E) a um destinatário do *e-mail* que está sendo editado.

98. Na imagem, “arquivo_zip” está relacionado

- (A) a um destinatário oculto do *e-mail* que está sendo editado.
- (B) a um arquivo anexo.
- (C) ao assunto do *e-mail*.
- (D) a um destinatário do *e-mail* que está sendo editado.
- (E) ao destinatário em cópia incluído no *e-mail*.

99. Observe a imagem a seguir, contendo uma página web que está sendo exibida no aplicativo Firefox.



O endereço da página web que será aberta ao clicar no local indicado pelo *mouse* é:

- (A) Concursos
- (B) www.vunesp.com.br
- (C) www.vunesp.com.br/cproximos.html
- (D) Próximos
- (E) www.unesp.br

100. Analise as afirmações a seguir quanto aos conhecimentos a respeito de vírus e internet e assinale a alternativa correta.

- (A) Ao baixar arquivos da internet ou receber arquivos por *e-mail*, é recomendável fazer uma verificação com um antivírus nos arquivos.
- (B) Um *site* com endereço na forma <https://site.com.br> não oferece risco de hospedar conteúdo com vírus.
- (C) Vírus podem ser enviados por *e-mail* por meio de qualquer endereço, principalmente endereços de *e-mail* no formato www.usuario.gmail.com.
- (D) Arquivos do tipo PDF não precisam ser verificados com antivírus, pois não podem apresentar problemas de segurança.
- (E) Um usuário que somente acessa *sites* conhecidos não corre o risco de contaminação por vírus.

